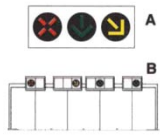













Patente Richiesta: B	Domande: 30 Risposte Esatte: 28, Risposte Errate: 2, Esito Esame: IDONEO
----------------------	--

	<p>1) Il semaforo in figura vale anche per i pedoni</p>	<input checked="" type="checkbox"/> <input checked="" type="checkbox"/>
	<p>2) I contrassegni rappresentati in figura sono applicati ad alcuni autobus</p>	<input checked="" type="checkbox"/> <input checked="" type="checkbox"/>
	<p>3) In un incrocio regolato con circolazione rotatoria, l'obbligo di dare la precedenza può essere imposto ai veicoli che stanno per immettersi</p>	<input checked="" type="checkbox"/> <input checked="" type="checkbox"/>
	<p>4) Sulle carreggiate, sulle rampe e sugli svincoli di autostrade e strade extraurbane principali il conducente può invertire il senso di marcia adottando tutti gli accorgimenti necessari</p>	<input checked="" type="checkbox"/> <input checked="" type="checkbox"/>
	<p>5) La sospensione della patente è disposta quando il conducente rifiuta di sottoporsi agli accertamenti sul suo eventuale stato di ebbrezza alcolica</p>	<input checked="" type="checkbox"/> <input checked="" type="checkbox"/>
	<p>6) Per diminuire l'inquinamento dell'aria provocato dai veicoli con motore a scoppio, bisogna sostituire la marmitta catalitica quando la stessa è deteriorata o esausta</p>	<input checked="" type="checkbox"/> <input checked="" type="checkbox"/>
	<p>7) Il segnale raffigurato preannuncia una corsia riservata per l'ingresso in aeroporto</p>	<input checked="" type="checkbox"/> <input checked="" type="checkbox"/>
	<p>8) Il segnale raffigurato vieta la fermata a tutti i veicoli</p>	<input checked="" type="checkbox"/> <input checked="" type="checkbox"/>
	<p>9) La segnaletica in figura indica lo spazio riservato alla sosta anche dei taxi</p>	<input checked="" type="checkbox"/> <input checked="" type="checkbox"/>
	<p>10) Il pannello integrativo di figura B indica il numero di corsie di cui è composta la strada</p>	<input checked="" type="checkbox"/> <input checked="" type="checkbox"/>



Patente Richiesta: B	Domande: 30 Risposte Esatte: 28, Risposte Errate: 2, Esito Esame: IDONEO	
	<p>11) E' vietato, in quanto costituisce pericolo o intralcio per la circolazione, immettersi nel flusso della circolazione provenendo da strade laterali</p>	<p><input type="checkbox"/> <input checked="" type="checkbox"/></p>
	<p>12) La fermata è vietata nei sottovia, sotto i sovrappassaggi, sotto i fornicci e i portici, salvo diversa segnalazione.</p>	<p><input checked="" type="checkbox"/> <input type="checkbox"/></p>
	<p>13) I guanti da motociclisti possono avere imbottiture diverse a seconda della stagione</p>	<p><input checked="" type="checkbox"/> <input type="checkbox"/></p>
	<p>14) Lo stato di shock si manifesta sempre con un forte aumento della temperatura corporea</p>	<p><input type="checkbox"/> <input checked="" type="checkbox"/></p>
	<p>15) L'autostrada è dotata di speciali corsie per l'ingresso e l'uscita dei veicoli</p>	<p><input checked="" type="checkbox"/> <input type="checkbox"/></p>
	<p>16) Il segnale raffigurato indica l'unica direzione consentita</p>	<p><input checked="" type="checkbox"/> <input type="checkbox"/></p>
	<p>17) Il segnale raffigurato comporta la presenza sulle strade che si incrociano del segnale DARE PRECEDENZA o STOP</p>	<p><input checked="" type="checkbox"/> <input type="checkbox"/></p>
	<p>18) Il segnale raffigurato preavvisa un attraversamento ferroviario senza barriere</p>	<p><input type="checkbox"/> <input checked="" type="checkbox"/></p>
	<p>19) In un secondo, si percorrono circa m 4 se si viaggia a 50 km/h</p>	<p><input type="checkbox"/> <input checked="" type="checkbox"/></p>
	<p>20) La manovra di sorpasso può effettuarsi a sinistra soltanto se il veicolo da sorpassare sta svoltando a destra</p>	<p><input type="checkbox"/> <input checked="" type="checkbox"/></p>



Patente Richiesta: B		Domande: 30 Risposte Esatte: 28, Risposte Errate: 2, Esito Esame: IDONEO	
	21) La luce della targa di un autoveicolo si deve accendere solo di notte	<input checked="" type="checkbox"/>	<input checked="" type="checkbox"/>
	22) Durante un intervento di primo soccorso, se l'infortunato ha una ferita sanguinante, con presenza di corpi estranei conficcati, non bisogna toglierli dalla ferita	<input checked="" type="checkbox"/>	<input checked="" type="checkbox"/>
	23) A volte ci si espone a situazioni più rischiose di quelle che si è in grado di gestire	<input checked="" type="checkbox"/>	<input checked="" type="checkbox"/>
	24) Il segnale raffigurato preannuncia la fine dell'obbligo precedentemente imposto	<input checked="" type="checkbox"/>	<input checked="" type="checkbox"/>
	25) Il segnale raffigurato indica la presenza di polizia a piedi	<input checked="" type="checkbox"/>	<input checked="" type="checkbox"/>
	26) La distanza di sicurezza dipende dallo spazio percorso nel tempo di reazione	<input checked="" type="checkbox"/>	<input checked="" type="checkbox"/>
	27) Secondo le norme di precedenza nell'incrocio in figura il veicolo L deve transitare per ultimo	<input checked="" type="checkbox"/>	<input checked="" type="checkbox"/>
	28) Sugli autoveicoli, il carico non può sporgere longitudinalmente dalla parte anteriore	<input checked="" type="checkbox"/>	<input checked="" type="checkbox"/>
	29) Il fenomeno dell'aquaplaning fa scivolare le ruote sullo strato di acqua	<input checked="" type="checkbox"/>	<input checked="" type="checkbox"/>
	30) Durante le operazioni di sostituzione di una ruota tramite il martinetto (cric), bisogna evitare di mettersi sotto il veicolo	<input checked="" type="checkbox"/>	<input checked="" type="checkbox"/>